

7 класс

1. Используя представленную ниже таблицу, выполните задания.


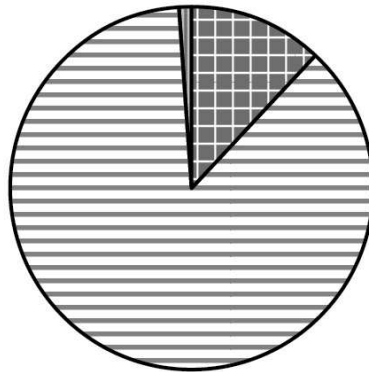
Численность и возрастной состав населения, 2017 г.

№	Страна	Численность населения, млн человек	Доля населения, %		
			в возрасте до 15 лет	в возрасте от 15 до 65 лет	в возрасте 65 лет и старше
1	Новая Зеландия	4,5	19	66	15
2	Катар	2	12	87	1
3	Перу	31	26	66	8
4	Япония	126	13	59	28

Расположите страны в порядке **увеличения** численности населения, начиная со страны с самой маленькой численностью. Запишите в ответе последовательность **порядковых номеров** этих стран.

Ответ.

2. Возрастной состав населения какой страны, из приведённых в таблице, отражает представленная на рисунке диаграмма? Запишите в ответе **название** страны.



доля населения в возрасте до 15 лет



доля населения в возрасте от 15 до 65 лет



доля населения в возрасте от 65

в

- 3.

Численность и структура занятости населения, 2017 г.

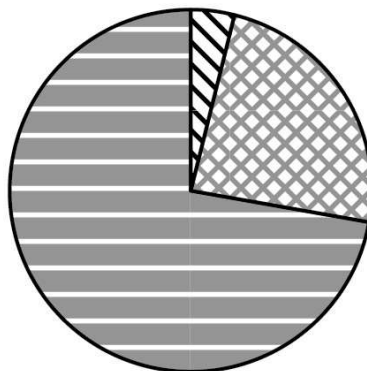
№	Страна	Численность занятого населения, млн человек	Доля занятого населения, %		
			в сельском хозяйстве	в промышленности	в сфере услуг
1	Марокко	12,0	39	20	41
2	Испания	22,8	4	24	72
3	Судан	11,9	80	7	13
4	Мавритания	1,5	50	2	48

Расположите страны в порядке **увеличения** численности занятого населения, начиная со страны с самым низким показателем. Запишите в ответе последовательность **порядковых номеров** этих стран.

Ответ.

--	--	--	--

Структуру занятости населения какой страны, из приведённых в таблице, отражает представленная на рисунке диаграмма? Запишите в ответе **название** страны.



Доля населения
В промышленности

Доля населения в с/х

услуги

